



TOKAT M.EMİN SARAÇ ANADOLU İMAM HATİP LİSESİ
İMAM HATİP ORTAOKULU
5. SINIF ÖĞRENCİ EK SEÇME SINAVI
05.09.2024



-TÜRKÇE -

DİKKAT! BU BÖLÜMDE CEVAPLAYACAĞINIZ SORU SAYISI 15'DİR.

Bu bölümdeki sorularla ilgili cevaplarınızı cevap kâğıdınızdaki "Türkçe" bölümüne işaretlemeyi unutmayınız.

1- "Açık" kelimesi aşağıdaki cümlelerin hangisinde **koyu kelimesinin karıştı anlamlısı** olarak kullanılmıştır?

- A) Açık pencereden bir kuş girdi.
- B) Açık sarı saçlı, zayıf bir genç kızdı.
- C) Bu adamın her işi açıktır.
- D) Çırak açık dükkândan içeriye girdi.

2-Aşağıdaki cümlelerin hangisinde 'düşmek' sözcüğü **deyim içinde kullanılmıştır?**

- A) Patates fiyatları bu hafta düştü.
- B) Çocuk oyun oynarken yere düştü.
- C) Memleketi aklına düşünce hüznü.landı.
- D) Bu sene tarladan alınan verim düştü.

3- Lokman Hekim'e "Hastalarımıza ne yedirelim?" diye sorduklarında şu cevabı vermiş: Acı söz yedirmeyin de ne yedirseniz yedinir.

Bu parçada vurgulanmak istenen düşünce aşağıdakilerden hangisidir?

- A) Bir hastanın iyileşmesi için moral çok önemlidir.
- B) Hasta olunca mutlaka doktora gidilmelidir.
- C) Hasta bakımında dikkatli davranmak gerekir.
- D) Hastalar beslenmelerine dikkat etmelidir.

Şairlerin tahammülü en az olanı, en çok darılanı galiba Yahya Kemal'dir. Çoğu zaman **incir çekirdeğini doldurmayacak** meselelerden ötürü kimlere darılmamıştır ki...

4- **Bu parçaya altı çizili sözün kattığı anlam aşağıdakileri hangisinde vardır?**

- A) Değeri anlaşılamamış
- B) Küçük ama önemli
- C) Üzerinde durulması gereken
- D) Önemsiz, üzerinde durulmaya değmeyen

5- **Aşağıdaki cümlelerin hangisinde hayal ürünü öğelere yer verilmemiştir?**

- A) Öğrenciler sınıflarında oyun oynuyorlar.
- B) Prenses elmayı ısırınca yüz yıllık uykuya daldı.
- C) Uçan arabasıyla bize her yeri gezdirdi.
- D) Mavi renkli kuş "Özgürüm !" diyerek uçtu.

6- **Aşağıdaki cümlelerden hangisinin sonuna soru işareti konulmalıdır?**

- A) Güneş doğdu mu ağaçların tepesi ışıldar
- B) Avrupa'ya siz mi gittiniz
- C) Bir yere gidilecek mi uçağa binilmeli
- D) Babam geldi mi gelmedi mi bilmiyorum





“Günümüzde el sanatlarına eskisi gibi rağbet edilmiyor. El sanatları, hızla gelişen teknolojinin karşısında tutunamıyor maalesef. Halk fabrikalarda seri ve ucuz çıkan ürünleri tercih ediyor artık. Bu yüzden el sanatları ustaları git gide azalmakta, bu meslekler yok olma tehlikesiyle karşı karşıya kalmaktadır.”

7- Bu paragrafta aşağıdakilerden hangisine değinilmemiştir?

- A) El sanatlarının yok olmak ile karşı karşıya olduğuna
- B) El sanatlarını kurtarma yollarına
- C) El sanatlarının yok olma nedenlerine
- D) El sanatlarının eskisi gibi rağbet görmemesine

* Sinemaya tiyatroya gidelim.

* Eve geldik..... annem çağırıldı.

* Ben Atatürk ile iki üç kez karşılaştım.

8- Verilen cümlelere aşağıdakilerden uygun olanlar getirildiğinde hangisi dışta kalır?

- A) çünkü
- B) ya da
- C) veya
- D) ama

Annemle çarşıdan ayakkabı da aldık.

9- Yukarıdaki cümleden aşağıdaki anlamlardan hangisi çıkarılmaz?

- A) Çarşıdan sadece ayakkabı aldık.
- B) Çarşıdan başka şeyler de aldık.
- C) Çarşıya annem ile gittik.
- D) Çarşıdan ayakkabı aldık.

_____ insanların algılama düzeyi sabahları çok yüksek olur.

10- Cümlesinin kişisel görüş ifade etmemesi için boşluğa aşağıdakilerden hangisi getirilmelidir?

- A) Bence
- B) Araştırmalara göre
- C) Genellikle
- D) Bana göre

11- “Şimdi, adanın en güzel plajında güneşlenmekte olan bu beyefendi, buraya ilk vapurla gelmediğine göre”

Bu cümle aşağıdakilerin hangisiyle tamamlanabilir?

- A) sonraki vapuru bekliyordur.
- B) yabancı bir turisttir.
- C) adanın değerini bilmiyordur.
- D) adada oturan biridir.

“Zaman nasıl da akıp gidiyor... Önlük giydiğim ve yakalıklı taktığım o günler daha dün gibi. Hatırlıyorum da o zamanlar çok mutluydum. Üşüyen bedenimi saracak bir annem, mahallenin çocuklarını kendisine şikâyet edebileceğim bir babam ve can arkadaşlarım vardı benim eskiden.”

12- Yazar için aşağıdakilerden hangisi söylenebilir?

- A) Hayatı önemsememektedir.
- B) İçine kapanık birisidir.
- C) Geçmişe özlem duymaktadır.
- D) İnsanları çok sevmektedir.





Çoğu yazar '10 yaşından beri hikâyeler yazıyorum zaten. ' der. Ama benim öyle bir durumum söz konusu değil. Ben ilk kitabımı yazdığımda tam olarak 28 yaşındaydım.

13- Bu metin aşağıdaki sorulardan hangisine cevap vermek amacıyla söylenmiştir?

- A) Sizi yazmaya yönlendiren nedir?
- B) Kitap yazmaya ne zaman başladınız?
- C) Çocukluğunuzda yazar olmak ister miydiniz?
- D) Yazarlığa geç başladığınızı düşünüyor musunuz?

	Ali	Ahmet
Pazartesi	10 TL	15 TL
Salı	15 TL	6 TL
Çarşamba	17 TL	12 TL
Perşembe	5 TL	5 TL
Cuma	10 TL	5 TL
Cumartesi	7 TL	10 TL
Pazar	20 TL	25 TL

Bu tabloda, Ali ile Ahmet'in haftanın yedi günü yaptığı harcamalar vardır.

14- Tabloya göre aşağıdakilerden hangisi yanlıştır?

- A) Ali, pazartesi ve cuma günleri aynı miktarda harcama yapmıştır.
- B) Ahmet, salı günü Ali'den daha az para harcamıştır.
- C) Ali ve Ahmet cumartesi günü, perşembe gününe göre daha fazla harcama yapmıştır.
- D) Ahmet pazar günü, çarşamba günü harcadığından daha az para harcamıştır.

Ecem	Hafta sonu müsait değil.
Betül	Çarşamba ve pazar müsait.
Fahri	Pazartesi ve Perşembe müsait değil.
Hurşit	Pazartesi, salı ve çarşamba müsait.

Tabloda dört arkadaşın sinemaya gidebilmek için müsait oldukları ve olmadıkları zaman dilimleri belirtilmiştir.

15- Buna göre dört arkadaşın 'birlikte' gidebilecekleri gün aşağıdakilerden hangisidir?

- A) Pazartesi
- B) Çarşamba
- C) Salı
- D) Perşembe



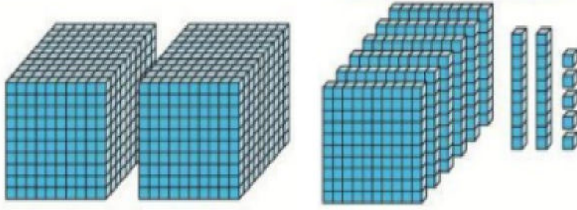


-MATEMATİK-

DİKKAT! BU BÖLÜMDE CEVAPLAYACAĞINIZ SORU SAYISI 15'DİR.

Bu bölümdeki sorularla ilgili cevaplarınızı cevap kâğıdınızdaki "Matematik" bölümüne işaretlemeyi unutmayınız.

1.



Yukarıda taban blokları ile modellenen sayı aşağıdakilerden hangisidir?

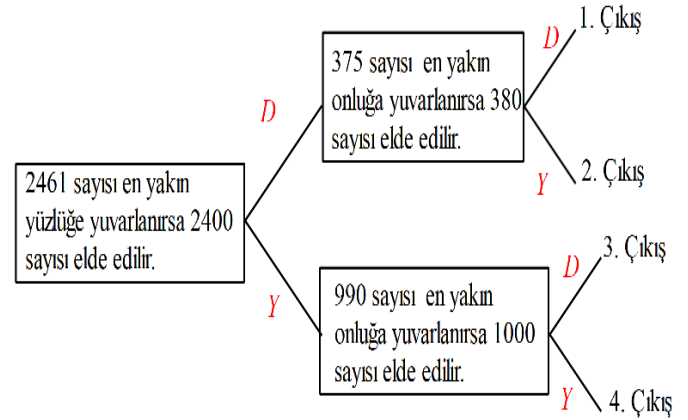
- A) 26115 B) 11625
C) 2625 D) 5262

2. "2019 yılındaki nüfus verilerine göre Tokat'ta yaşayanların üç yüz dört bin dokuz yüz otuz sekizi erkek, üç yüz yedi bin sekiz yüz dokuzu kadındır."

Verilenlere göre aşağıdakilerden hangisi yanlıştır?

- A) Erkek nüfusunu gösteren sayının binler bölümünde yazan sayı 4 tür.
B) Erkek nüfusunu gösteren sayının onlar basamağında yazan sayı 3 tür.
C) Kadın nüfusunu gösteren sayının onlar ve on binler basamağı aynıdır.
D) Kadın nüfusunu gösteren sayıdaki 8 rakamının basamak değeri 800 dür.

3.



Şemadaki ifadeler doğru ise "D", yanlış ise "Y" yolunu seçiniz. Kaçınıcı çıkışa ulaştınız?

- A) 1 B) 2 C) 3 D) 4

4. Ahmet beyin aldığı tişörtün fiyatının en yakın onluğa yuvarlanmış şekli 50 liradır. **Buna göre tişörtün fiyatı en fazla kaç lira olabilir?**

- A) 45 B) 49 C) 54 D) 59

5. $8\ 378 > A\ 199 > 2\ 487$ ifadesinde A yerine kaç farklı rakam yazılabilir?

- A) 5 B) 6 C) 7 D) 8





6.



Şekildeki taburelerden bir tanesinin yüksekliği 20 cm dir. Dört tanesi üst üste konulduğunda taburelerin yüksekliği 32 cm olmaktadır.

Buna göre 10 tane tabure üst üste konulduğunda yerden yükseklikleri kaç cm olacaktır?

A) 30 B) 40 C) 47 D) 56

7.

$$\begin{array}{r} 36\Box5 \\ + 471\Box \\ \hline 8\Box63 \end{array}$$

Yukarıda verilen toplama işlemine göre boş yerlere gelecek rakamların toplamı kaçtır?

A) 15 B) 16 C) 17 D) 18

8.

$$98 \times 67 = ?$$

Yukarıdaki işlemin sonucu kaçtır?

A) 1274 B) 5456 C) 6566 D) 7448

9.

$$\begin{array}{r} 6\Box12 \\ - 452\Box \\ \hline \Box184 \end{array}$$

Yukarıdaki çıkarma işleminde boş yerlere gelecek rakamları bulunuz.

Aşağıdakilerden hangisi bu rakamlardan birisi değildir?

A) 2 B) 6 C) 7 D) 8

10. Bir pastane her gün aynı sayıda yaş pasta üreterek 9 günde 936 pasta üretiyor.

Buna göre bu pastane bir günde kaç yaş pasta üretiyor?

A) 14 B) 104 C) 136 D) 927

11. Bir dondurma firması üç dondurma çubuğu getirene bir dondurma hediye vermektedir.


Bir dondurmanın fiyatı 4 lira olduğuna göre 13 dondurma tüketen bir kişi en az kaç lira ödemiştir?

A) 32 B) 36 C) 40 D) 52





12.



Şekildeki zemin 40 eş kareye ayrılmıştır ve tamamı bir renge boyanacaktır. Zemini boyamak için kırmızı veya mavi boyalardan birisi seçilecektir. Kırmızı boyanın bir tüpü 4 kare, mavi boyanın bir tüpü ise 6 kare boyayabilmektedir. Her iki boyanın da bir tüpü 7 liradır.

Zemin boyamak için en az kaç liralık boya alınmıştır?

- A) 28 B) 42 C) 49 D) 70

13. Melek Hanım çocuklara hediye etmek için tanesi 73 liradan 8 tane oyuncak almıştır.

Melek hanım ödeyeceği ücreti hesaplamak için sayıları en yakın onluğa yuvarlamıştır. Bulduğu tahmini sonuç kaç liradır?

- A) 560 B) 584 C) 600 D) 700

14.

Kenan bir bisiklet alıyor. Bisikletin ücretinin 150 lirasını peşin veriyor ve kalanını 10 taksitte ödeyecektir.

Bisiklet 1200 lira olduğuna göre bir aylık taksiti kaç liradır?

- A) 15 B) 105 C) 120 D) 135

15.

$$12 \times \blacksquare = 59 + 37$$

$$238 \div 14 = \blacktriangle - 13$$

Yukarıdaki verilen eşitliklere göre $\blacksquare + \blacktriangle$ sonucu kaçtır?

- A) 12 B) 25 C) 38 D) 45





-FEN BİLİMLERİ-

DİKKAT! BU BÖLÜMDE CEVAPLAYACAĞINIZ SORU SAYISI 10'DUR.

Bu bölümdeki sorularla ilgili cevaplarınızı cevap kâğıdınızdaki "**Fen Bilimleri**" bölümüne işaretlemeyi unutmayınız.

- 1-Gece gündüz oluşur.
- 2- Yıllık sıcaklık farklılıkları oluşur.
- 3-Güneş ışınları gün içerisinde farklı açılardan gelir.

1) Dünya kendi eksenini etrafında batıdan doğuya doğru sürekli döner. Yukarıdakilerden hangisi Dünya'nın dönme hareketinin sonuçlarındanır?

- A) 1 ve 2
- B) 2 ve 3
- C) 1 ve 3
- D) 1, 2 ve 3

2) Yaralarının çabuk iyileşmesini isteyen Barış'ın hangi besin içeriğinden fazla yemesi gerekir?

- A) Yağ
- B) Karbonhidrat
- C) Vitamin
- D) Protein

3) I-Milyonlarca yıl içinde canlıların üzerindeki tabakaların kalınlığı artar.

II-Böylece canlı kalıntısı sertleşerek kayaç hâlini alır ve fosil oluşur.

III- Ölen canlılar sel ve toprak kayması gibi dış etkenler ile kum ve çamurun altında kalır.

IV-Canlının yumuşak dokuları yavaş yavaş çürür ve oluşan boşluklara su ile mineraller dolar

Buna göre fosilleşme süreci hangi sıraya göre olur?

- A)I-II-IV-III
- B)II-III-I-IV
- C)III-I-IV-II
- D)III-IV-I-II

4)



Dünya'nın kendi çevresindeki dönüş süresi ne kadardır?

- A) 1 yıl
- B) 1 ay
- C) 1 gün
- D) 1hafta

5) I.Fosillerin oluşumu 5-10 yıl sürer.
II.Ölen her canlı fosilleşir.
III.Buzullarda da fosilleşme olur.

Yukarıda fosillerle ilgili verilen bilgilerden hangileri doğrudur.

- A)I ve II
- B) Yalnız III
- C) Yalnız II
- D) Yalnız I





6-) Bir cisme kuvvet uygulandığında cisimde aşağıdakilerden hangisi görülmez?

- A) Renk değişikliği
- B) Şekil değişikliği
- C) Yön değişikliği
- D) Hız değişikliği



8-)Yukarıdaki görsele bakarak hangisi söylenemez?

- A)Mıknatıs demiri çeker.
- B)Mıknatıs bütün maddeleri çeker.
- C)Mıknatısın gücü uç kutuplarda toplanmıştır.
- D)Mıknatıs altın ve gümüşü çekmez.

7.



- 1. Hızlanır
- 2. Durur
- 3. Yavaşlar
- 4. Şekil değişir

Şekildeki cisim ok yönünde hareket etmektedir. Cisme arkasından bir itme kuvveti uygulandığında aşağıdakilerden hangisi ya da hangileri gerçekleşir?

- A) Yalnız 1
- B) Yalnız 2
- C) 1 ve 3
- D) 2 ve 4


9) Aşağıda verilen eşleştirmelerden hangisi yanlıştır?

- | | | |
|-----------|---|-----------|
| A) altın | → | saf madde |
| B) çorba | → | saf madde |
| C) salata | → | karişim |
| D) kek | → | karişim |

10-) Aşağıdakilerden hangisine uygulanan kuvvet ortadan kalkınca eski haline dönmez?

- | | |
|-----------|-----------------|
| A) Silgi | B)Paket lastiği |
| C) Sünger | D) Oyun hamuru |

Fen Bilimleri testi bitmiştir.
Diğer teste geçiniz.





-SOSYAL BİLGİLER-

DİKKAT! BU BÖLÜMDE CEVAPLAYACAĞINIZ SORU SAYISI,5 tir. Bu bölümdeki sorularla ilgili cevaplarınızı cevap kâğıdınızdaki "Sosyal Bilgiler" bölümüne işaretlemeyi unutmayınız.

1. Aşağıdakilerden hangisi yön bulmak için kullanılan yöntemlerden biri değildir?

- A) Gölgeden yararlanmak
- B) Bulutlara bakmak
- C) Pusula kullanmak
- D) Kutup Yıldızı'na bakmak

I. Eğim fazladır.

II. Killi toprak yapısı vardır.

III. Yağış miktarı fazladır.

2. Verilen özelliklerin bulunduğu bir yerde aşağıdaki doğal afetlerden hangisi gerçekleşebilir?

- A) Sel
- B) Erozyon
- C) Heyelan
- D) Deprem

3.



Türkiye Fiziki Haritasında kullanılan yeşil renk aşağıdaki yer şekillerinden hangisine aittir?

- A) Ova
- B) Körfez
- C) Orman
- D) Irmak

4. Beşerî unsurlar insan aklının ve emeğinin ürünleridir. Doğal unsurlar ise doğada kendiliğinden bulunur. Bunların oluşumunda insanların herhangi bir etkisi yoktur.

Verilen bilgiye göre aşağıdakilerden hangisinin özelliği diğerlerinden farklıdır.

- A) Yeşilirmak Nehri
- B) Tokat Kalesi
- C) Saat Kulesi
- D) Ali Paşa Camii

5. Havada meydana gelen yağış, nem, rüzgâr, sis vb. meteoroloji ile ilgili olaylara hava olayı denir. İnsanlar, günlük yaşamlarını planlarken genellikle hava olaylarını göz önünde tutar.

Aşağıdakilerden hangisi hava olaylarından etkilenmez ?

- A) Ulaşım
- B) Giyecek seçimi
- C) Tatil planı
- D) Gece-gündüz oluşumu

Sosyal Bilimler testi bitmiştir.
Diğer teste geçiniz.





-DİN KÜLTÜRÜ VE AHLAK BİLGİSİ-

DİKKAT! BU BÖLÜMDE CEVAPLAYACAĞINIZ SORU SAYISI 5'DİR.

Bu bölümdeki sorularla ilgili cevaplarınızı cevap kağıdınızdaki "**Din Kültürü ve Ahlak Bilgisi**" bölümüne işaretlemeyi unutmayınız.

1. Akıl sahiplerini kendi istek ve hür iradeleri ile hayırlı olan şeylere sevk eden ilahî kurallara din denir.

Yukarıda verilen dinin tanımına göre şıklardan hangisi yanlıştır?

- A) Din insanın özgür iradeleri ile ilgili bir durumdur.
- B) Akılsız varlıkları da ilgilendirir.
- C) Allah tarafından belirlenen kurallar içerir
- D) İnsanların iyiliğe ulaşmasını sağlar.

2. Aşağıdakilerden hangisi dini ifadelerden biri **değildir**?

- A) Hoşça kal
- B) Allaha emanet ol
- C) Allah rahmet eylesin
- D) Maşallah

3. Siz, iman etmedikçe cennete giremezsiniz; birbirinizi sevmedikçe de iman etmiş olamazsınız. Yaptığınız zaman birbirinizi seveceğiniz bir şey söyleyeyim mi? Aranızda selamı yayınız (Hadis) **Yukarıdaki hadisi dikkate aldığımızda hangisini söylememiz yanlış olur?**

- A) Selam cennete gidilecek yolun ilk basamağıdır
- B) İman etmiş olmanın şartlarından biri de insanları sevmektir
- C) İnsanların birbirini sevmesinin en kolay yollarından biri de selamlaşmaktır
- D) İman etmesek de insanları sevmek cennete gitmek için yeterlidir

4. Aşağıdakilerden hangisi Sevap sayılan davranışlardan biri **değildir**?

- A) Allah'ın emir ve yasaklarına uymak
- B) Fakir ve yoksullara iyilikte bulunmak
- C) Yağmurlu havada şemsiye kullanmak
- D) Anne ve babamıza iyi davranmak

5. Aşağıda verilen İslam'ın şartları ile ilgili eşleştirmelerden hangisi doğrudur?

A) O ne güzel ibadet.
Günde yarım saate
sığar beş vakit nöbet

Oruç

B) Olabilirse kısmet
Beşinci şart İslam'ın
Kâbe'sini Ziyaret

Zekat

C) Gündüz yiyip içmeden
Sevinçle geçer müddet

Hac

D) Tek ve büyük Allahtan
Başka ilah yok elbet
Onun son peygamberi
Şanı yüce Muhammet

Kelime-i
şehadet

Din Kül.ve Âh.Bil. testi bitmiştir.
Diğer teste geçiniz.





-İNGİLİZCE-

DİKKAT! BU BÖLÜMDE CEVAPLAYACAĞINIZ SORU SAYISI 5'DİR.
Bu bölümdeki sorularla ilgili cevaplarınızı cevap kâğıdınızdaki "İngilizce" bölümüne işaretlemeyi unutmayınız.

1. Complete the dialogue.

A: Can I use your pencil sharpener?

B:

A: Can you give it please?

B:

A: Thank you.

- A) Yes, you are / Here you are
- B) Of course / Yes, you can
- C) Of course / Here you are
- D) Yes, you can / Yes, you are

2. Read the paragraph and answer the question

Hi! My name is Aksa. I'm eleven years old. I am from Pakistan but we live in Türkiye. We live in Tokat. Tokat is very beautiful. I go to M. Emin Saraç İmam Hatip Secondary school. I love my school and my teachers.

What nationality is Aksa?

- A) She is from Pakistan.
- B) She is Turkish.
- C) She is from Tokat.
- D) She is Pakistani.






3. Complete the dialogue.

A: Is this your book Muhammed Ali?

B: No,

- A) it isn't a book
- B) It is my book
- C) It is Zafer's book
- D) It is a notebook.



4. Choose the best answer

ACTIVITIES	Mary	Rebecca	Emily	Eunice
Riding a bike	√	x	x	√
Playing chess	x	√	√	x
Planting trees	√	x	x	√

- A) Mary and Eunice like riding a bike and planting trees but they dislike playing chess.
- B) Mary and Rebecca like playing chess but they dislike riding a bike.
- C) Emily and Eunice like planting trees but they dislike playing chess.
- D) Mary and Eunice like riding a bike but they dislike planting trees.

5. Read the paragraph and answer the question

Hi, my name is Ayşe. I am eleven years old. I get up at 07:00 o'clock and have breakfast. After breakfast, I get dressed and go to school. My school starts at 08:30. My favorite lesson is English. I have lunch at school at 12.00 o'clock. My school finishes at 03.30 and I go home. I have dinner, I do my homework and I go to bed at 10:00 pm.

What time does Ayşe eat lunch?

- A) At seven o'clock.
- B) At twelve o'clock.
- C) At ten o'clock.
- D) At eight thirty.

Sınav bitmiştir.

